

[SBI Clerk Mains Mock Test Series](#)[SBI Clerk Mains 50 Days Bundle PDF Course](#)

## SBI Clerk Prelims Free Memory Based Mock Test (Held on 10th Jul 2021) - Hindi

### English Language

Directions (1-5): In the sentences given below, four words have been highlighted and placed in a sentence. Identify the correct sequence of the words in the sentence and mark that option as your answer.

1. What the government can **control (A)**, however, taxes **Less (B)** than two years **slumped (C)** the Modi government took office, crude oil prices **after (D)** from over \$100 a barrel to less than \$30 a barrel.

- A. BCDA
- B. BCAD
- C. CBDA
- D. ABDC
- E. None of the options

2. Autonomous cars also **pose (A)** ethical **priorities (B)**, especially in case of accidents: who does the car **protect(C)**, the passengers or the pedestrians? The government will have to set its policies and **issues (D)** right first.

- A. DABC
- B. BADC
- C. CBCA
- D. ADCB
- E. No correction required

3. In the US for treatment of a pancreatic ailment **prolonged (A)** March 16, ManoharParrikar's **since(B)** absence **paralysis (C)** to be causing a policy **seems (D)** in Goa's BJP-led coalition government.

- A. DABC
- B. BADC
- C. CBCA
- D. ADCB
- E. No correction required

4."India also needs to **part (A)** strategic reserves of oil, **acquire(B)** equity interest in international oil companies and **diversify(C)** the energy

## SBI Clerk Prelims Free Memory Based Mock Test (Held on 10th Jul 2021)

portfolio as **build (D)** of a long-term sustainable energy security strategy, says Ranade.

- A. ABCD
- B. DACB
- C. DCBA
- D. DBCA
- E. No correction required

5. Before engaging in **squandering (A)** price competition or **reckless (B)** resources and effort in the **futile (C)** defense of a lost cause, leaders should take **stock (D)** of the entire situation.

- A. BACD
- B. DACB
- C. CABD
- D. DBCA
- E. No correction required

**Directions (6-10):** In the question below, a sentence is divided into four parts out of which one part has an error in it. Find the part with error and mark that as your answer.

6. Three decades after it's economy **(A)** / was liberalized, India remains **(B)** / a complex and challenging **(C)** / place to do business. **(D)**/ No error.

- A. A
- B. B
- C. C
- D. D
- E. No error

7. The much-awaited vehicle scrap policy announced by the Transport Ministry, **(A)**/ coming after the move for a green tax **(B)**/ on

ageing and polluting automobiles, **(C)**/ promising economic benefit. **(D)**/ No error.

- A. A
- B. B
- C. C
- D. D
- E. No error

8. Iran is not the only country **(A)**/ there the US has sought to destabilize **(B)**/ hostile governments through intensive **(C)**/ intervention in domestic politics. **(D)**/ No error.

- A. A
- B. B
- C. C
- D. D
- E. No error

9. Ambiverts can be good salespeople because they are **(A)**/ able to listen to their clients and understand their needs **(B)**/ but also have an energy to sell **(C)**/ their firms' goods and services. **(D)**/ No error.

- A. A
- B. B
- C. C
- D. D
- E. No error

10. America's main financial regulator looks poised to **(A)**/ introduce rules forcing firms to **(B)**/ reveal how climate change or efforts to fight it **(C)**/ may affect their business. **(D)**/ No error.

- A. A
- B. B

## SBI Clerk Prelims Free Memory Based Mock Test (Held on 10th Jul 2021)

- C. C
- D. D
- E. No error

Directions (11-16): In the questions given below, there is a sentence in which one part is given in bold. The part given in bold may or may not be grammatically correct. Choose the best alternative among the four given which can replace the part in bold to make the sentence grammatically correct. If the part given in bold is already correct and does not require any replacement, choose option (e), i.e. "No replacement required" as your answer.

11. A key problem in most engineering colleges is that the students should not only become skilled engineers but **should also train to** speak and write clearly.

- A. Shall also train to
- B. Should also trains to
- C. Should also trained to
- D. Should also training to
- E. No Correction required

12. The CEO agrees that his company **shall be regulated when it** comes to harmful content on the social media platforms.

- A. Shall be regulate if it
- B. Shall be regulated when its
- C. Would be regulated when its
- D. Should be regulated when it
- E. No replacement required.

13. **Based on information we had**, the attorneys agreed that the case looked suspicious.

- A. Basis on information we had
- B. Based on information we were having
- C. Based on the information we had
- D. Based on the information she have
- E. No replacement required.

14. In a sale and leaseback model, an airline **acquire the aircraft in** an attractive price and sells it to a lessor and leases it back for its use.

- A. Acquired the aircraft at
- B. Acquired the aircraft on
- C. Acquires the aircraft at
- D. Acquired the aircraft in
- E. No Correction required

15. For most of the time, legalized **gambling is almost exclusive** associated with Las Vegas.

- A. Gambling is almost exclusively
- B. Gambling was almost exclusive
- C. Gambling has being almost exclusively
- D. Gambling is being almost exclusively
- E. No replacement required.

16. The politician wanted to **strick balance between** withholding his position and getting into a rapid exchange of opinions.

- A. strike a balance between
- B. striking balance among
- C. have stroked a balance between
- D. having strike between
- E. No correction required

Directions (17-22): Read the following passage and answer the questions as directed. There are some blanks given in the passage. You have to 3

## SBI Clerk Prelims Free Memory Based Mock Test (Held on 10th Jul 2021)

find the appropriate word for the given blank and mark the corresponding option as your answer

Ant's giddy growth is both a cause and a consequence of big changes in Chinese life: development, urbanization and the emergence of a vast middle class ready to spend. But it also \_\_\_\_\_ a) a broader shift in the provision of financial services. In hindsight, the \_\_\_\_\_ b) year was 2007, when the credit crunch started and the Iphone was launched. The consequences of the crunch have preoccupied bankers everywhere for more than a decade. The Smartphone, it is becoming clear, will matter at least as much for their future. Many bankers in developed countries fear that its plans for \_\_\_\_\_ c) expansion beyond China have merely been postponed. And Ant's platform approach offers a pick-and-mix of financial and non-financial products from other companies on its app. "I understand why banks would be a little scared: the sheer size of our user base and the variety of services we offer," says Mr Chen. It's \_\_\_\_\_ d) is in creating value from technology, not from deploying capital to support loans, he says. Many of those institutions are \_\_\_\_\_ e) nonetheless. And being disrupted by Ant is just one of their digitally induced nightmares. In another version a Western tech giant, Amazon is mentioned most often—decides to move into banking. In such scenarios incumbents risk ending up as "dumb pipes", holding \_\_\_\_\_ f) balance-sheets and originating products such as mortgages and loans that someone else sells to consumers. If they were to lose the ability to

build a brand and the transaction data needed to understand their customers and cross-sell, their wares would become interchangeable.

17. Which of the following words will be correct for blank numbered (a)?

- A. Illustrate
- B. Exemplifies
- C. Contorts
- D. Perverts
- E. All are correct

18. Which of the following words will be correct for blank numbered (b)?

- A. Pivotal
- B. Minor
- C. Excess
- D. Prodigal
- E. All are correct

19. Which of the following words will be correct for blank numbered (c)?

- A. Meek
- B. Complaisant
- C. Aggressive
- D. Dormant
- E. All are correct

20. Which of the following words will be correct for blank numbered (d)?

- A. Prowess
- B. Expertise
- C. Aptness
- D. Proficiency
- E. All are correct

## SBI Clerk Prelims Free Memory Based Mock Test (Held on 10th Jul 2021)

21. Which of the following words will be correct for blank numbered (e)?

- A. Residing
- B. Hovering
- C. Perching
- D. Quaking
- E. All are correct

22. Which of the following words will be correct for blank numbered (f)?

- A. Deflated
- B. Bloated
- C. Shrunken
- D. Drained
- E. All are correct

**Directions (23- 30): Read the following passage carefully and answer the questions given below it. Certain words/phrases have been printed in bold to help you locate them while answering some of the questions.**

A new analysis has determined that the threat of global warming can still be **curtailed** if countries cut emissions of heat-trapping greenhouse gases by 80% this century. The analysis was completed by scientists at the National Centre for Atmospheric Research (NCAR). Whereas global temperatures would rise, the most dangerous and harmful potential aspects of climate change, including huge losses of Arctic sea ice and permafrost and major sea-level rise, could be certainly avoided. "This research indicates that we could no longer avoid major warming during this century," said NCAR scientist Warren Washington, the study paper's

leading author. "But, if the universe was to implement this level of emission cuts, we could stabilize the threat of climate change," he also added.

Global temperatures have warmed by close to 2 degree Celsius since the pre-industrial era. Much of the warming is because of human-produced emissions of greenhouse gases, mainly carbon dioxide. This heat-trapping gas has **surged** from a pre-industrial level of about 294 parts per million (ppm) in the atmosphere to more than 390 ppm today. **{With research and analysis showing that additional (A)/ warming of about 2 degree Celsius may be the (B)/ threshold for harmful climate change, the European Union have asked to(C)/ dramatic cuts in emissions of carbon dioxide and other harmful greenhouse gases.(D)}**

To examine the impact of cuts on the world's climate, Washington and his colleagues operate a series of global studies in collaboration with the NCAR-based Community Climate System Model (CCSM). They assumed that carbon dioxide level could be held to 460 ppm at the end of this century. In contrast, emissions are now on track to reach about 770 ppm by 2200 if unchecked. The team's results stated that if carbon dioxide were held to 460 ppm, global temperatures would spike by 0.8 degree Celsius above current readings by the end of this century. (In contrast, the study also showed that **emissions** would rise by almost five times that amount, to 2.3 degrees Celsius above **current** readings, if **temperatures** were continued to be allowed on their present course). Holding carbon dioxide levels to 460

## SBI Clerk Prelims Free Memory Based Mock Test (Held on 10th Jul 2021)

ppm would have other harmful impacts, according to the climate study.

**23. Why has the European Union asked for dramatic cuts in carbon dioxide and harmful greenhouse gas emissions?**

- A. As global warming is not an important issue of concern.
- B. As the temperature may rise almost by an additional two degree and this will lead to severe change in the climate
- C. As the NCAR has forced the European Union to announces the cuts
- D. As all the countries has decided to cut emissions of carbon dioxide
- E. None of these

**24. What would be the following impact of unchecked carbon dioxide and greenhouse gas emissions?**

- A. The temperature would increase from the current temperature by 2.3 degrees Celsius.
- B. Global temperatures will increase by 0.8 degrees Celsius.
- C. Arctic warming would be reduced by one-fourth.
- D. Thermal power expansion will stop completely
- E. None of these

**25. From the given options which of the following statements is correct in the context of the passage?**

- A. At present the carbon dioxide emission is about 274 ppm.
- B. The carbon dioxide emissions will be about 450 ppm at the end of this century if unchecked.

- C. The carbon dioxide emission was about 330 ppm during the pre-industrial era.
- D. The carbon dioxide emissions will be about 770 ppm at the end of this century if unchecked.
- E. None of these

**26. What does the scientist Warren Washington mean when he says "we could stabilize the threat of climate change"?**

- A. Climate change can be stopped partially.
- B. Climate change can be regularized.
- C. Climate change and its effects can be studied extensively.
- D. The harmful effects of the change in climate can be minimized.
- E. None of these

**27. Find the erroneous part:-**

{With research and analysis showing that additional (A)/ warming of about 2 degree Celsius may be the (B)/ threshold for harmful climate change, the European Union have asked to(C)/ dramatic cuts in emissions of carbon dioxide and other harmful greenhouse gases.(D)}

- A. A
- B. B
- C. C
- D. D
- E. No error

**28. In this question some words are highlighted in bold which may or may not be in their proper place, you have to arrange them in order to**

## SBI Clerk Prelims Free Memory Based Mock Test (Held on 10th Jul 2021)

make sentences coherently and meaningfully correct.

(In contrast, the study also showed that emissions (A) would rise by almost five times that amount, to 2.3 degrees Celsius above current(B) readings, if temperatures (C) were to continue to be allowed (D) on their present course).

- A. B-D
- B. A-C
- C. A-D
- D. B-C
- E. No correction required

29. Choose the word which is the antonym for the word "curtailed".

- A. Diminish
- B. Shorten
- C. Retrench
- D. Dwarf
- E. Amplify

30. Which of the following word will replace the word "surged"?

- A. Plummeted
- B. boosted
- C. decline
- D. dwindle
- E. recede

### Quantitative Aptitude

Directions (31-35): निम्नलिखित संख्या श्रृंखला में (?) के स्थान पर क्या मान आना चाहिए?

31. 49, 58, 33, 82, 1, ?

- A. 17
- B. 89
- C. 122
- D. 101
- E. 65

32. 2, 7, ?, 146, 877

- A. 32
- B. 29
- C. 27
- D. 23
- E. 39

33. 19, 21, 24, 29, ?, 47

- A. 36
- B. 38
- C. 40
- D. 41
- E. 32

34. 12, 48, 168, ?, 1260, 2520

- A. 496
- B. 498
- C. 502
- D. 504
- E. 508

35. 11, 26, 46, 71, ?, 136

- A. 91
- B. 97
- C. 101

  
**SBI Clerk Prelims Free Memory Based Mock Test (Held on 10th Jul 2021)**

D. 119

E. 111

Directions (36-45): निम्नलिखित प्रश्नों में (?) के स्थान पर क्या मान आना चाहिए।

36.  $560 \div 14 + 65 \% \text{ of } 80 = ? * 23$

A. 4

B. 5

C. 3

D. 6

E. 7

37.  $16.5 * 6 + 15 * 18 - 22 * 9 = ?$

A. 179

B. 175

C. 171

D. 168

E. 163

38.  $12 * ? = \sqrt{1296} * 9 + 29 * 12$

A. 63

B. 56

C. 52

D. 58

E. 65

39.  $414 \div \sqrt{529} + 418 \div \sqrt{361} + ? = \sqrt{3721}$

A. 19

B. 21

C. 31

D. 24

E. 25

40.  $(3 \div 7) * (91 \div \sqrt{144}) * 48 = ?$

A. 138

B. 152

C. 148

D. 156

E. 142

41.  $40 \% \text{ of } 125 + 70 \% \text{ of } 110 = ?$

A. 119

B. 121

C. 123

D. 125

E. 127

42.  $57\% \text{ of } (8/19) * (5/13) * 650 = ?$

A. 45

B. 50

C. 60

D. 55

E. 65

43.  $(? \div 18) * (13 \div 221) = \sqrt{1156} \div ?$

A. 102

B. 104

C. 105

D. 101

E. 107

44.  $(216)^{13} * (36)^5 = 6^? * 6^9$

A. 30

B. 35

C. 40

D. 45

E. 25

45.  $15 * 35 + 55\% \text{ of } 120 - 12 * 18 = ?$

A. 345



## SBI Clerk Prelims Free Memory Based Mock Test (Held on 10th Jul 2021)

B. 355

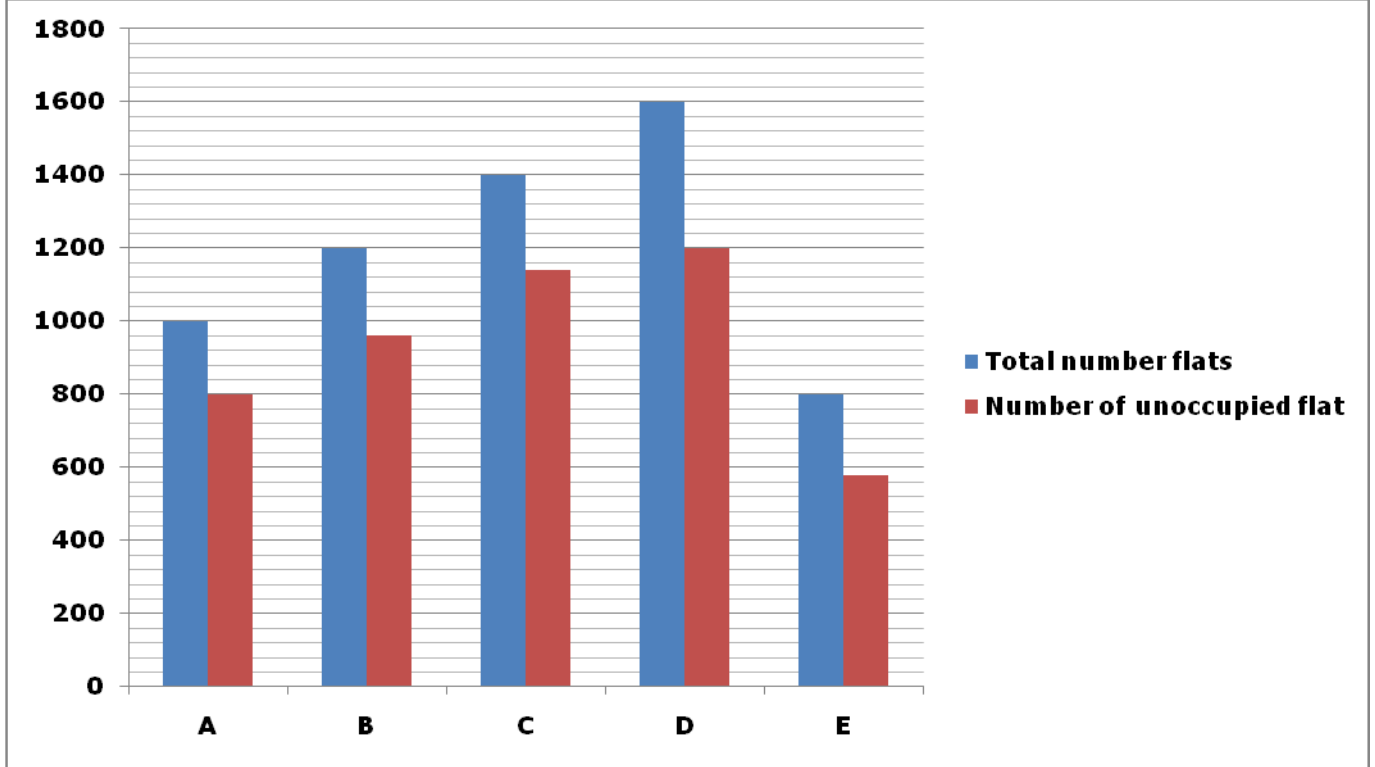
C. 365

D. 325

E. 375

निर्देश (46-50): निम्नलिखित जानकारी का ध्यानपूर्वक अध्ययन करें और नीचे दिए गए प्रश्नों के उत्तर दें।

दिया गया बार ग्राफ पांच अलग-अलग भवनों में फ्लैटों की कुल संख्या और खाली पड़े फ्लैटों की संख्या को दर्शाता है।



46. यदि भवन A और B के प्रत्येक अधिकृत फ्लैट में व्यक्तियों की संख्या क्रमशः 3 और 2 है। तो भवन A और B में व्यक्तियों की कुल संख्या ज्ञात कीजिए?

A. 1020

B. 1040

C. 1060

D. 1080

E. 1100

47. C और D के भवन में एक साथ अधिकृत फ्लैटों की संख्या और भवन B में फ्लैटों की कुल संख्या के बीच का अंतर क्या है?

A. 520

B. 540

C. 560

D. 500

E. 580

48. भवन A में खाली पड़े फ्लैटों की संख्या से भवन B और E में एकसाथ अधिकृत फ्लैटों की कुल संख्या का अनुपात क्या है??

A. 40:23

B. 39:23

C. 39:22

D. 20:11

E. इनमें से कोई नहीं

49. भवन D में खाली पड़े फ्लैटों की संख्या, भवन A और E में एक साथ फ्लैटों की कुल संख्या का कितना प्रतिशत है?

A. 58.81%

B. 60.60%

C. 61.16%

## SBI Clerk Prelims Free Memory Based Mock Test (Held on 10th Jul 2021)

D. 64.44%

E. 66.67%

50. भवन F में अधिकृत फ्लैटों की संख्या A की तुलना में 40% अधिक है और भवन F में कुल फ्लैटों की संख्या भवन C में अधिकृत फ्लैटों की संख्या से 120% अधिक है। भवन F में खाली पड़े फ्लैटों की संख्या ज्ञात कीजिए?

A. 294

B. 292

C. 296

D. 290

E. 298

निर्देश (51-55): निम्नलिखित जानकारी का ध्यानपूर्वक अध्ययन करें और नीचे दिए गए प्रश्नों के उत्तर दें।

तीन कक्षा A, B और C हैं और प्रत्येक कक्षा में तीन अलग-अलग सेक्शन x, y और z हैं।

कक्षा A: छात्रों की कुल संख्या 360 है और सेक्शन x में छात्रों की संख्या छात्रों की कुल संख्या का एक तिहाई है। y और z में छात्रों की संख्या का अनुपात 2:1 है।

कक्षा B: x और y में छात्रों की संख्या का अनुपात 8:5 है। z में छात्रों की संख्या x और y में छात्रों की कुल संख्या का 50% है। छात्रों की कुल संख्या 390 है।

कक्षा C: B और C में छात्रों की कुल संख्या 3:2 है। C में y में छात्रों की संख्या, B में y में छात्रों की संख्या से 20% अधिक है। x में छात्रों की कुल संख्या C में छात्रों की कुल संख्या का 30% है।

51. सेक्शन X में B से C में छात्रों की संख्या का अनुपात क्या है?

A. 80:39

B. 27:13

C. 40:19

D. 54:35

E. इनमें से कोई नहीं

52. सभी कक्षाओं में एक साथ Y में छात्रों की कुल संख्या ज्ञात कीजिए?

A. 360

B. 370

C. 380

D. 390

E. 350

53. A और C में सेक्शन z में छात्रों की औसत संख्या क्या है?

A. 71

B. 73

C. 69

D. 67

E. 70

54. सेक्शन Y में B और C में एक साथ छात्रों की कुल संख्या और A में कुल छात्रों की संख्या के बीच का अंतर ज्ञात कीजिए?

A. 120

B. 130

C. 150

D. 140

E. 160

55. B में सेक्शन z में छात्रों की संख्या C में कुल छात्रों की संख्या का कितना प्रतिशत है?

A. 45%

B. 50%

C. 55%

D. 40%

E. 60%

56. 5 वर्ष पहले, A और B की आयु 6:7 के अनुपात में है।

A, B, C और D की औसत वर्तमान आयु 29 वर्ष है। C, D 10

## SBI Clerk Prelims Free Memory Based Mock Test (Held on 10th Jul 2021)

से 15 वर्ष बड़ा है। D की वर्तमान आयु ज्ञात कीजिए, यदि 8 वर्ष बाद B की आयु 48 वर्ष है?

- A. 17 वर्ष
- B. 19 वर्ष
- C. 15 वर्ष
- D. 13 वर्ष
- E. इनमें से कोई नहीं

57. शांत पानी में नाव की गति से धारा की गति का अनुपात 5: 1 है। यदि नाव द्वारा धारा के साथ और धारा के विपरीत 150 किमी की यात्रा करने में लिया गया समय 12.5 घंटे है। अनुप्रवाह गति और उर्ध्वप्रवाह गति में क्या अंतर है?

- A. 5 किमी/घंटा
- B. 8 किमी/घंटा
- C. 10 किमी/घंटा
- D. 12 किमी/घंटा
- E. इनमें से कोई नहीं

58. पाइप A अकेले टैंक को 20 घंटे में भरता है और पाइप B और C एक साथ टैंक को 10 घंटे में भर सकते हैं। यदि पाइप A को खोला जाता है और 8 घंटे के बाद इसे बंद कर दिया जाता है और फिर पाइप B शेष टैंक को 18 घंटे में भर देता है। पाइप C अकेले टैंक को कितने घंटे में भरेगा?

- A. 12 घंटे
- B. 15 घंटे
- C. 18 घंटे
- D. 21 घंटे
- E. इनमें से कोई नहीं

59. A और B ने क्रमशः 12000 रुपये और 10000 रुपये का निवेश करके एक व्यवसाय शुरू किया। x महीनों के बाद, C उनके साथ जुड़ जाता है और 15000 रुपये का निवेश करता है। यदि वर्ष के अंत में 3835 रुपये के कुल लाभ में से A का लाभ हिस्सा 1560 रुपये है, तो x का मान ज्ञात कीजिए?

- A. 4 महिना
- B. 6 महिना
- C. 8 महिना
- D. 10 महिना
- E. इनमें से कोई नहीं

60. वर्ग का क्षेत्रफल 484 सेमी<sup>2</sup> है और वर्ग की भुजा त्रिभुज की ऊंचाई के बराबर है। त्रिभुज की चौड़ाई ज्ञात कीजिए, यदि त्रिभुज का क्षेत्रफल 176 सेमी<sup>2</sup> है?

- A. 14 सेमी
- B. 12 सेमी
- C. 15 सेमी
- D. 16 सेमी
- E. 18 सेमी

61. सोनी अपने वेतन का 20% घर के किराए पर, वेतन का 30% शिक्षा शुल्क में और शेष वेतन का 80% खरीदारी पर खर्च करता है। अगर अब उसके पास शेष 800 रुपये है। तो सोनी का वेतन क्या है?

- A. 6000 रुपये
- B. 7800 रुपये
- C. 7200 रुपये
- D. 8000 रुपये
- E. 8400 रुपये

62. एक पुस्तक को उसके क्रय मूल्य से 20% अधिक अंकित किया जाता है और 100 रुपये की छूट देकर बेचा जाता है ताकि 10% का लाभ हो। इसका लागत मूल्य क्या है?

- A. 1000 रुपये
- B. 1500 रुपये
- C. 2000 रुपये
- D. 2500 रुपये
- E. इनमें से कोई नहीं

## SBI Clerk Prelims Free Memory Based Mock Test (Held on 10th Jul 2021)

63. साहुल 4 वर्षों के लिए R% प्रति वर्ष की दर से साधारण ब्याज योजना में X रुपये का निवेश करता है। यदि साहुल द्वारा प्राप्त ब्याज से X का अनुपात 3:5 है। तो R का मान ज्ञात कीजिए?

- A. 12%
- B. 10%
- C. 15%
- D. 18%
- E. 20%

64. एक बर्तन में दूध और पानी का मिश्रण 5:3 के अनुपात में है। जब मिश्रण में 20 लीटर पानी मिला दिया जाता है, तो अनुपात 1:1 हो जाता है। मिश्रण की प्रारंभिक मात्रा क्या है?

- A. 60 लीटर

निर्देश (66-69): निम्नलिखित जानकारी का ध्यानपूर्वक अध्ययन करें और नीचे दिए गए प्रश्नों के उत्तर दें।

आठ व्यक्ति- A, B, C, D, E, F, G, और H एक रैखिक पंक्ति में उत्तर दिशा की ओर उन्मुख होकर बैठे हैं लेकिन आवश्यक नहीं इसी क्रम में हो।

C, D के बायें से छठे स्थान पर बैठा है। E और C एक दूसरे के आसन्न बैठे हैं। B, E के दायें से तीसरे स्थान पर बैठा है। F और D एक दूसरे के आसन्न बैठे हैं। A, F के बाएं से पांचवें स्थान पर बैठा है। G और A एक दूसरे के आसन्न नहीं बैठे हैं।

66. A और C के बीच उतने ही व्यक्ति बैठे हैं जितने F और \_\_\_ के बीच बैठे हैं?

- A. B
- B. G
- C. H
- D. E
- E. उपरोक्त में से कोई नहीं

67. निम्नलिखित में से कौन सा कथन सत्य है?

- A. B, G के तत्काल बायें बैठा है

- B. 70 लीटर
- C. 80 लीटर
- D. 90 लीटर
- E. इनमें से कोई नहीं

65. स्कूल में लड़कों और लड़कियों की संख्या का अनुपात 4:5 है। कुछ महीनों के बाद 12 लड़के और 8 लड़कियां कक्षा में शामिल हुए। कुछ ओर महीनों के बाद 30 लड़के और 26 लड़कियों ने कक्षा छोड़ दी, तो अनुपात 1:2 हो जाता है। कक्षा में लड़कों की प्रारंभिक संख्या कितनी है?

- A. 20
- B. 24
- C. 28
- D. 30
- E. इनमें से कोई नहीं

### Reasoning Ability

- B. E और H के बीच कोई नहीं बैठा है
- C. दो से अधिक व्यक्ति D के दायें बैठे हैं
- D. C, H के बायें से दूसरे स्थान पर बैठा है
- E. कोई भी कथन असत्य नहीं है

68. B और C के बीच कितने व्यक्ति बैठे हैं?

- A. दो
- B. तीन
- C. एक
- D. चार
- E. कोई नहीं

69. निम्नलिखित में से कौन दायें छोर से तीसरे स्थान पर बैठा है?

- A. D
- B. G
- C. F
- D. H

E. A

निर्देश (70-72): निम्नलिखित कथनों का अध्ययन करें और फिर तय करें कि दिए गए निष्कर्षों में से कौन सा निष्कर्ष सामान्य रूप से ज्ञात तथ्यों की अवहेलना करते हुए दिए गए कथनों का तार्किक रूप से अनुसरण करता है।

70. कथन

केवल कुछ ही स्पीकर(speaker) मोबाइल(mobile) हैं सभी मोबाइल(mobile) लैपटॉप(laptop) है कोई लैपटॉप(laptop) हेडफोन(headphone) नहीं है निष्कर्ष

I. कोई मोबाइल(mobile) हेडफोन(headphone) नहीं है

II. कुछ स्पीकर(speaker) लैपटॉप(laptop) हैं

A. केवल I अनुसरण करता है

B. या तो I या II अनुसरण करते हैं

C. केवल II अनुसरण करता है

D. I और II दोनों अनुसरण करते हैं

E. न तो I और न ही II अनुसरण करता है

71. कथन

केवल कुछ ही ब्लेंडर(blenders) ओवन(oven) हैं

कुछ ओवन(oven) केटल(kettle) है

कुछ केटल(kettle) मिक्सर(mixer) है

निष्कर्ष

I. कोई ओवन(oven) मिक्सर(mixer) नहीं है

II. कुछ मिक्सर(mixer) ओवन(oven) है

A. केवल I अनुसरण करता है

B. या तो I या II अनुसरण करते हैं

C. केवल II अनुसरण करता है

D. I और II दोनों अनुसरण करते हैं

E. न तो I और न ही II अनुसरण करता है

72. कथन

केवल कुछ ही माइक्रोवेव(microwave) टोस्ट मशीन(टोस्ट machine) हैं

सभी टोस्ट मशीन(टोस्ट machine) लैंप(lamp) है

सभी माइक्रोवेव(microwave) डिश वाशर(dish washer) हैं

निष्कर्ष

I. कुछ डिशवाशर(dish washer) के लैंप(lamp) होने की संभावना है

II. कुछ लैंप(lamp) माइक्रोवेव(microwave) हैं

A. केवल I अनुसरण करता है

B. या तो I या II अनुसरण करते हैं

C. केवल II अनुसरण करता है

D. I और II दोनों अनुसरण करते हैं

E. न तो I और न ही II अनुसरण करता है

निर्देश (73-76): निम्नलिखित जानकारी का ध्यानपूर्वक अध्ययन करें और नीचे दिए गए प्रश्नों के उत्तर दें।

K 1 ^ X 6 2 M 3 H € 0 T \* N I & A % 5 F @ V 4

® B Y G \$ 8 L D # U 7 R 9 ©

73. ऐसी कितनी संख्याएँ हैं जिनके तत्काल पहले एक अक्षर है और तत्काल बाद एक प्रतीक है?

A. चार

B. तीन

C. दो

D. एक

E. कोई नहीं

74. यदि श्रृंखला में सभी संख्याओं को जोड़ा जाए और फिर 5 से विभाजित किया जाए तो परिणाम क्या होगा?

A. 5

B. 7

C. 8

D. 9

E. इनमें से कोई नहीं

75. यदि बाएं छोर से पहले दो तत्वों को हटा दिया जाता है, तो कितने अक्षरों के तत्काल पहले एक प्रतीक और तत्काल बाद एक संख्या है?

A. एक

- B. दो
- C. तीन
- D. तीन से अधिक
- E. कोई नहीं

76. निम्नलिखित में से कौन सा तत्व दाएं छोर से सत्रहवें तत्व के बाएं से सातवें स्थान पर है?

- A. 4
- B. T
- C. 3
- D. €
- E. इनमें से कोई नहीं

निर्देश ( 77-81 ): निम्नलिखित जानकारी का ध्यानपूर्वक अध्ययन करें और नीचे दिए गए प्रश्नों के उत्तर दें।  
आठ व्यक्ति- A, B, C, D, E, F, G और H एक के बाद एक चीजें खरीद रहे हैं।

B और H के बीच केवल तीन व्यक्ति खरीदता है। E और B के बीच केवल एक व्यक्ति ने खरीदा, जिसने E से पहले खरीदा। E और A के बीच केवल चार व्यक्ति खरीदते हैं, जिसने E से पहले खरीदा। C और D के बीच केवल तीन व्यक्ति खरीदते हैं। D ने H से पहले खरीदा लेकिन B के बाद नहीं। F, G से पहले खरीदता है। G, C से पहले नहीं खरीदता है।

77. निम्नलिखित में से किस व्यक्ति ने F के तत्काल पहले खरीदारी की?

- A. D
- B. B
- C. H
- D. A
- E. G

78. निम्नलिखित पांच में से चार एक समूह बनाने के लिए समान हैं, निम्नलिखित में से कौन समूह से संबंधित नहीं है?

- A. DH

- B. HA
- C. GE
- D. CB
- E. EF

79. F से पहले कितने व्यक्ति खरीदारी करते हैं?

- A. तीन
- B. दो
- C. एक
- D. चार
- E. कोई नहीं

80. निम्नलिखित में से कौन सा/से कथन सत्य है/हैं ?

- A. केवल एक व्यक्ति E और H के बीच खरीदारी करता है
- B. G ने A से पहले खरीदा
- C. C से पहले किसी ने नहीं खरीदा
- D. B ने H के तीन व्यक्ति बाद खरीदा
- E. G और E के बीच किसी ने नहीं खरीदा

81. B \_\_\_\_\_ व्यक्ति के रूप में खरीदता था।

- A. छठा
- B. पांचवां
- C. चौथा
- D. सातवां
- E. इनमें से कोई नहीं

निर्देश (82-86): निम्नलिखित जानकारी का ध्यानपूर्वक अध्ययन करें और नीचे दिए गए प्रश्नों के उत्तर दें  
दस व्यक्ति दो समानांतर पंक्तियों में बैठे हैं और एक दूसरे का सामना कर रहे हैं। पंक्ति 1 में, U, V, W, X और Y दक्षिण की ओर उन्मुख हैं। पंक्ति 2 में- A, B, C, D और E का मुख उत्तर की ओर है। जरूरी नहीं कि सभी सूचनाएं इसी क्रम में हों।

C, D के बायें से तीसरे स्थान पर बैठा है। D और A के बीच केवल एक व्यक्ति बैठा है। U, W के दायें से दूसरे स्थान पर बैठा है। U न तो A के विपरीत बैठा है और न ही C के। W

और X आसन्न पड़ोसी हैं। B न तो U के विपरीत बैठा है और न ही Y के। E और D के बीच बैठे व्यक्तियों की संख्या उतनी ही है जितनी V और Y के बीच है। Y, V के बाईं ओर बैठा है।

82. निम्नलिखित में से किस कथन में पहला व्यक्ति दूसरे व्यक्ति के तत्काल बायें बैठा है?

- I. AE
- II. XU
- III. VY
- A. केवल II
- B. केवल I और II
- C. केवल III
- D. सभी I, II और III
- E. इनमें से कोई नहीं

83. निम्नलिखित पांच में से चार एक समूह बनाने के लिए समान हैं, निम्नलिखित में से कौन समूह से संबंधित नहीं है?

- A. C
- B. वह व्यक्ति जो E के दायें से दूसरे स्थान पर बैठा है
- C. V
- D. W
- E. Y

84. निम्नलिखित में से कौन E के विपरीत बैठा है?

- A. वह व्यक्ति जो Y के तत्काल बायें बैठा है
- B. वह व्यक्ति जो W के तत्काल दायें बैठा है
- C. V
- D. X
- E. W

85. निम्नलिखित में से कौन X के तत्काल दायें बैठा है?

- A. W
- B. U
- C. जो Y के तत्काल दायें बैठा है
- D. Y

E. इनमें से कोई नहीं

86. A के दायें ओर कितने व्यक्ति बैठे हैं?

- A. तीन
- B. दो
- C. एक
- D. कोई नहीं
- E. चार

निर्देश ( 87-89 ): निम्नलिखित जानकारी का ध्यानपूर्वक अध्ययन करें और नीचे दिए गए प्रश्नों के उत्तर दें

बिंदु A से एक व्यक्ति दक्षिण दिशा की ओर चलता है, 8 किमी चलने के बाद वह बिंदु B पर पहुँचता है जहाँ वह बाईं ओर मुड़ता है और बिंदु C तक पहुँचने के लिए 4 किमी चलता है जहाँ वह दायें ओर मुड़ता है, बिंदु D तक पहुँचने के लिए 5 किमी चलता है जहाँ वह पूर्व दिशा में मुड़ता है और बिंदु E पर पहुँचने के लिए 8 किमी चलता है, जहाँ वह बाईं ओर मुड़ता है और बिंदु F पर पहुँचने के लिए 5 किमी चलता है, जहाँ वह दाईं ओर मुड़ता है और बिंदु G पर पहुँचने के लिए 4 किमी चलता है, फिर अंत में उत्तर की ओर मुड़ता है और बिंदु H पर पहुँचने के लिए 8 किमी चलता है।

87. B के सन्दर्भ में E की दिशा क्या है?

- A. दक्षिण-पश्चिम
- B. दक्षिण-पूर्व
- C. उत्तर-पूर्व
- D. उत्तर-पश्चिम
- E. दक्षिण

88. A के सन्दर्भ में H की दिशा और दूरी क्या है?

- A. पूर्व की ओर 15 किमी
- B. पश्चिम की ओर 16 किमी
- C. पूर्व की ओर 16 किमी
- D. पश्चिम की ओर 14 किमी
- E. पश्चिम की ओर 15 किमी

## SBI Clerk Prelims Free Memory Based Mock Test (Held on 10th Jul 2021)

89. C के सन्दर्भ में H की दिशा क्या है?

- A. दक्षिण-पश्चिम
- B. दक्षिण-पूर्व
- C. उत्तर-पूर्व
- D. उत्तर-पश्चिम
- E. दक्षिण

90. शब्द "CONDITION" में अक्षरों के ऐसे कितने जोड़े हैं, जिनमें से प्रत्येक के बीच उतने ही अक्षर हैं जितने कि अंग्रेजी वर्णमाला श्रृंखला (आगे और पीछे दोनों दिशाओं में) में हैं ?

- A. एक
- B. दो
- C. चार
- D. कोई नहीं
- E. तीन

91. शब्द "CONSECUTIVE" के बाएं छोर से तीसरे, चौथे, आठवें और ग्यारहवें अक्षर से कितने चार अक्षर अर्थपूर्ण शब्द बन सकते हैं (प्रत्येक अक्षर केवल एक बार प्रयोग किया जाता है)?

- A. एक
- B. दो
- C. चार
- D. कोई नहीं
- E. तीन

निर्देश (92-96): निम्नलिखित जानकारी का ध्यानपूर्वक अध्ययन करें और नीचे दिए गए प्रश्नों के उत्तर दें।

आठ व्यक्ति- A, B, C, D, E, F, G, और H वृत्ताकार मेज पर केंद्र की ओर मुख करके बैठे हैं। जरूरी नहीं कि सभी सूचनाएं इसी क्रम में हों।

A, C के दायें से दूसरे स्थान पर बैठा है। D और C के बीच केवल दो व्यक्ति बैठे हैं। E, H के तत्काल दायें बैठा है। D और H आसन्न पड़ोसी हैं। H और G के बीच केवल एक व्यक्ति बैठा है। F, B के दायें से दूसरे स्थान पर बैठा है। B और A आसन्न पड़ोसी नहीं हैं।

92. निम्नलिखित में से कौन G के तत्काल दायें बैठा है?

- A. E
- B. B
- C. H
- D. F
- E. इनमें से कोई नहीं

93. निम्नलिखित में से कौन H के विपरीत बैठा है?

- A. A
- B. E
- C. C
- D. F
- E. B

94. यदि H, D से संबंधित है और A एक निश्चित तरीके से F से संबंधित है। तो, निम्नलिखित में से कौन B से संबंधित है?

- A. H
- B. E
- C. G
- D. C
- E. इनमें से कोई नहीं

95. D के दाईं ओर से गिनने पर D और G के बीच कितने व्यक्ति बैठे हैं ?

- A. कोई नहीं
- B. दो
- C. तीन
- D. चार
- E. एक

96. निम्नलिखित में से कौन सा/से कथन सत्य है/हैं ?

- A. A और B के बीच केवल तीन व्यक्ति बैठे हैं
- B. E, B के दायें से दूसरे स्थान पर बैठा है
- C. D, C के विपरीत बैठा है



## SBI Clerk Prelims Free Memory Based Mock Test (Held on 10th Jul 2021)

D. G और E आसन्न पड़ोसी नहीं हैं

E. C, F के तत्काल बायें बैठा है

निर्देश (97-99) : निम्नलिखित प्रत्येक प्रश्न में, विभिन्न तत्वों के बीच संबंध को दो निष्कर्षों के बाद दिए गए कथनों में दिखाया गया है। वह निष्कर्ष ज्ञात कीजिए जो निश्चित रूप से सत्य है।

A. यदि केवल निष्कर्ष I सत्य है।

B. यदि केवल निष्कर्ष II सत्य है।

C. यदि या तो निष्कर्ष I या II सत्य है।

D. यदि न तो निष्कर्ष I और न ही II सत्य है।

E. यदि निष्कर्ष I और II दोनों सत्य हैं।

97. कथन:

$M \geq Q = R > W = X \leq O$

निष्कर्ष:

I.  $M > W$

II.  $X < Q$

98. कथन:

$I = K > D \geq L < J = Y$

निष्कर्ष:

I.  $L \leq I$

II.  $D > Y$

99. कथन:

$O \geq Q \leq S \geq W = B \geq F = H \leq N$

निष्कर्ष:

I.  $S > F$

II.  $H = S$

100. छह व्यक्ति- A, B, C, D, E और F एक रेखिक पंक्ति में उत्तर की ओर मुख करके बैठे हैं लेकिन आवश्यक नहीं कि इसी क्रम में हों। A और D के बीच केवल एक व्यक्ति बैठा है। B, C के दायें से तीसरे स्थान पर बैठा है। केवल एक व्यक्ति A और B के बीच बैठा है। E न तो A के आसन्न बैठा है और न ही D के। निम्नलिखित में से कौन F के दायें से दूसरे स्थान पर बैठा है?

A. B

B. E

C. A

D. C

E. D

### Answer Key with Explanation

#### English Language

1. Answer: D

Option d, in the given sentence, 'slumped' and 'after' at their current position fails to impart valid meaning to the sentence, But interchanging them will make the given sentence both grammatically and contextually correct.

2. Answer: D

In the given sentence, 'priorities' and 'issues' at their current position fails to impart valid meaning to the sentence, But interchanging them will make the given sentence both grammatically and contextually correct.

3. Answer: B

In the given sentence, 'since', 'prolonged' 'paralysis' and 'seems' at their current position

## SBI Clerk Prelims Free Memory Based Mock Test (Held on 10th Jul 2021)

fails to impart valid meaning to the sentence, But interchanging them will make the given sentence both grammatically and contextually correct.

### 4. Answer: D

In the given sentence, 'part' and 'build' at their current position fails to impart valid meaning to the sentence, But interchanging them will make the given sentence both grammatically and contextually correct.

### 5. Answer: A

In the given sentence, 'squandering' and 'reckless' at their current position fails to impart valid meaning to the sentence, But interchanging them will make the given sentence both grammatically and contextually correct.

### 6. Answer: A

Three decades after **its** economy was liberalized, India remains a complex and challenging place to do business.

Usage of "it's" is incorrect.

"It's" is the short form of "It is".

But in the given sentence we need a possessive noun "its" to showcase the relationship between India and its economy.

### 7. Answer: D

The much-awaited vehicle scrappage policy announced by the Transport Ministry, coming after the move for a green tax on ageing and

polluting automobiles, **promises** economic benefit.

Here the subject "The much-awaited vehicle scrappage policy" which is a singular subject. Usage of gerund form is grammatically incorrect.

The present verb in "s" form must be used. Promises is the correct verb.

### 8. Answer: B

Iran is not the only country **where** the US has sought to destabilise hostile governments through intensive intervention in domestic politics.

Relative pronouns "Where" should replace the word "there" in order to make the sentence error free. A relative pronoun is one which is used to refer to nouns mentioned previously.

### 9. Answer: C

Ambiverts can be good salespeople because they are able to listen to their clients and understand their needs but also have the energy to sell their firms' goods and services. Article usage is wrong here.

We generally use Article "an" with a singular countable noun. But "Energy" is an uncountable noun.

### 10. Answer: E

The given sentence is error free.

America's main financial regulator looks poised to introduce rules forcing firms to reveal how

## SBI Clerk Prelims Free Memory Based Mock Test (Held on 10th Jul 2021)

climate change or efforts to fight it may affect their business.

### 11. Answer: E

The statement is correct so is the highlighted part. There is no correction required. Hence, option E is the right answer choice.

### 12. Answer: D

Here, the most appropriate phrase to replace the given highlighted phrase will be "Should be regulated when it" because 'shall' is used to express certain rules or laws whereas 'should' is used to express personal opinion. Hence, option (d) is the most suitable answer choice.

### 13. Answer: C

In the given sentence, 'information' is followed by 'we had' which is an adjective clause. This makes 'information' a definite noun and must be preceded by 'the'. Hence, option (c) is the most suitable answer choice.

### 14. Answer: C

'Acquires the aircraft at' should replace the part underlined to make the sentence grammatically correct. Hence, option C is the right answer choice.

### 15. Answer: A

In the given statement 'associated' has been used as a verb and must be qualified by an adverb (exclusively) instead of an adjective (exclusive). Hence, option (a) is the most suitable answer choice.

### 16. Answer: A

The highlighted part must be replaced with "strike a balance between" to make it a grammatically correct sentence.

Strike a balance between – to give the correct amount of importance or attention to two separate things.

### 17. Answer: B

According to the sentence examples will be used as it means to clarify by giving an example.

### 18. Answer: A

According to the sentence pivotal will be used as it means important.

### 19. Answer: C

According to the sentence aggressive will be used as it means behaving or done in a determined and forceful way.

### 20. Answer: B

According to the sentence expertise will be used as it means expert skill or knowledge in a particular field.

### 21. Answer: D

According to the sentence quaking will be used as it means shake with fear

### 22. Answer: B

According to the sentence bloated will be used as it means blown up or bulging.

## SBI Clerk Prelims Free Memory Based Mock Test (Held on 10th Jul 2021)

### 23. Answer: B

As stated in the third paragraph - With research and analysis showing that additional warming of about 2 degree Celsius may be the threshold for harmful climate change, the European Union has asked for dramatic cuts in emissions of carbon dioxide and other harmful greenhouse gases

### 24. Answer: A

As clearly mentioned in the last lines of the fourth paragraph- In contrast, the study also showed that temperatures would rise by almost five times that amount, to 2.3 degrees Celsius above current readings, if emissions were continued to be allowed on their present course.

### 25. Answer: D

As stated in the last paragraph- In contrast, emissions are now on track to reach about 770 ppm by 2200 if unchecked.

### 26. Answer: D

Read the second paragraph carefully - "This research indicates that we could no longer avoid major warming during this century," said NCAR scientist Warren Washington, the study paper's leading author. "But, if the universe was to

implement this level of emission cuts, we could stabilize the threat of climate change," he also added.

### 27. Answer: C

With research and analysis showing that additional warming of about 2 degree Celsius may be the threshold for harmful climate change, the European Union has asked for dramatic cuts in emissions of carbon dioxide and other harmful greenhouse gases  
Have asked to be replaced by "has asked for.

### 28. Answer: B

(In contrast, the study also showed that temperatures would rise by almost five times that amount, to 2.3 degrees Celsius above current readings, if emissions were continued to be allowed on their present course).

### 29. Answer: E

Curtail means to reduce, diminish, lessen, shrink, etc.

And amplify is the antonym for the word curtail.

### 30. Answer: B

Surged –Increased, move suddenly

All other words are opposite to the word surged

## Quantitative Aptitude

**31. उत्तर: C**

$49 + 3^2 = 58$

$58 - 5^2 = 33$

$33 + 7^2 = 82$

$82 - 9^2 = 1$

$1 + 11^2 = 122$

**32. उत्तर: B**

$2 * 3 + 1 = 7$

$7 * 4 + 1 = 29$

$29 * 5 + 1 = 146$

$146 * 6 + 1 = 877$

**33. उत्तर: A**

$19 + 2 = 21$

$21 + 3 = 24$

$24 + 5 = 29$

$29 + 7 = 36$

$36 + 11 = 47$

**34. उत्तर: D**

$12 * 4 = 48$

$48 * 3.5 = 168$

$168 * 3 = 504$

$504 * 2.5 = 1260$

$1260 * 2 = 2520$

**35. उत्तर: C**

$11 + 15 = 26$

$26 + 20 = 46$

$46 + 25 = 71$

$71 + 30 = 101$

$101 + 35 = 136$

**36. उत्तर: A**

$560 \div 14 + 65 \% \text{ of } 80 = ? * 23$

$40 + 52 = ? * 23$

$? = 4$

**37. उत्तर: C**

$16.5 * 6 + 15 * 18 - 22 * 9 = ?$

$99 + 270 - 198 = ?$

$? = 171$

**38. उत्तर: B**

$12 * ? = \sqrt{1296} * 9 + 29 * 12$

$? * 12 = 324 + 348$

$? = 56$

**39. उत्तर: B**

$414 \div \sqrt{529} + 418 \div \sqrt{361} + ? = \sqrt{3721}$

$18 + 22 + ? = 61$

$? = 21$

**40. उत्तर: D**

$(3 \div 7) * (91 \div \sqrt{144}) * 48 = ?$

$3/7 * 91/12 * 48 = ?$

$? = 156$

**41. उत्तर: E**

$40 \% \text{ of } 125 + 70 \% \text{ of } 110 = ?$

$50 + 77 = ?$

$? = 127$

**42. उत्तर: C**

$57\% \text{ of } (8/19) * (5/13) * 650 = ?$

$? = 60$

43. उत्तर: A

$$(? \div 18) * (13 \div 221) = \sqrt{1156} \div ?$$

$$? = 102$$

44. उत्तर: C

$$(216)^{13} * (36)^5 = 6^? * 6^9$$

$$39 + 10 - 9 = ?$$

$$? = 40$$

45. उत्तर: E

$$15 * 35 + 55\% \text{ of } 120 - 12 * 18 = ?$$

$$525 + 66 - 216 = ?$$

$$? = 375$$

46. उत्तर: D

$$\text{आवश्यक कुल} = (3 * (1000 - 800)) + (2 * (1200 - 960))$$

$$= 600 + 480$$

$$= 1080$$

47. उत्तर: B

$$C \text{ में अधिकृत फ्लैट} = 1400 - 1140 = 260$$

$$D \text{ में अधिकृत फ्लैटों की संख्या} = 1600 - 1200 = 400$$

$$\text{आवश्यक अंतर} = 1200 - (260 + 400)$$

$$= 540$$

48. उत्तर: A

$$\text{आवश्यक अनुपात} = 800 : ((800 - 580) + (1200 - 960))$$

$$= 800 : 460$$

$$= 40 : 23$$

49. उत्तर: E

$$\text{आवश्यक प्रतिशत} = 1200 / (800 + 1000) * 100$$

$$= 66.67\%$$

50. उत्तर: B

$$F \text{ में फ्लैटों की कुल संख्या} = 220/100 * (1400 - 1140) = 572$$

$$F \text{ में अधिकृत फ्लैटों की संख्या} = 140/100 * (1000 - 800) = 280$$

$$\text{आवश्यक योग} = 572 - 280 = 292$$

51. उत्तर: A

कक्षा A:

$$\text{कुल} = 360$$

$$x = 1/3 * 360 = 120$$

$$y \text{ और } z \text{ में छात्रों की कुल संख्या} = 360 - 120 = 240$$

$$y = 240 * 2/3 = 160$$

$$z = 240 * 1/3 = 80$$

कक्षा B:

$$\text{कुल} = 390$$

$$z = 50/100 * (8x + 5x) = 6.5x$$

$$x = 8/(8 + 5 + 6.5) * 390 = 160$$

$$y = 5/8 * 160 = 100$$

$$z = 6.5/8 * 160 = 130$$

कक्षा C:

$$\text{कुल} = 2/3 * 390 = 260$$

$$x = 260 * 30/100 = 78$$

$$y = 120/100 * 100 = 120$$

$$z = 260 - 78 - 120 = 62$$

$$\text{आवश्यक अनुपात} = 160 : 78$$

$$= 80 : 39$$

52. उत्तर: C

$$\text{आवश्यक योग} = (120 + 100 + 160) = 380$$

53. उत्तर: A

$$\text{आवश्यक औसत} = 62 + 80/2$$

= 71

54. उत्तर: D

$$\text{अंतर} = 360 - (100 + 120) = 140$$

55. उत्तर: B

$$\text{आवश्यक\%} = 130/260 * 100 = 50\%$$

56. उत्तर: D

5 वर्ष पहले, A और B की आयु का अनुपात = 6:7

8 वर्ष बाद B की आयु = 48 वर्ष

B की वर्तमान आयु = 40 वर्ष

A की वर्तमान आयु =  $[(35/7) * 6] + 5 = 35$  वर्ष

दिया हुआ,

माना D की वर्तमान आयु x है,

$$A + B + C + D = 29 * 4$$

$$35 + 40 + x + 15 + x = 116$$

$$2x + 90 = 116$$

$$2x = 26$$

$$x = 13$$

D की वर्तमान आयु = 13 वर्ष

57. उत्तर: C

$$150/6x + 150/4x = 12.5$$

$$25 + 37.5 = 12.5x$$

$$x = 5$$

अनुप्रवाह गति =  $6x = 6 * 5 = 30$  किमी/घंटा

उर्ध्वप्रवाह गति =  $4 * 5 = 20$  किमी/घंटा

$$\text{अंतर} = 30 - 20 = 10 \text{ किमी/घंटा}$$

58. उत्तर: B

$$A = 1/20$$

$$B + C = 1/10$$

A का 8 घंटे में भरता है =  $8/20 = 2/5$

$$\text{शेष कार्य} = 1 - 2/5 = 3/5$$

B ने टंकी का  $3/5$  भाग 18 घंटे में भर दिया।

$$B \text{ अकेले पूरे टैंक को भरने का समय} = 5/3 * 18 = 30 \text{ घंटे}$$

$$\text{अकेले C} = 1/10 - 1/30 = 1/15$$

59. उत्तर: B

$$A, B \text{ और } C \text{ का लाभ अनुपात} = 12000 * 12 : 10000 *$$

$$12 : 15000 * (12 - x)$$

$$= 144 : 120 : (180 - 15x)$$

$$144 / (444 - 15x) = 1560 / 3835$$

$$5772 - 195x = 4602$$

$$x = 6$$

60. उत्तर: D

$$\text{वर्ग का क्षेत्रफल (a}^2\text{)} = 484 \text{ सेमी}^2$$

$$\text{वर्ग की भुजा} = 22 \text{ सेमी}$$

$$\text{त्रिभुज की ऊँचाई} = 22 \text{ सेमी}$$

$$\text{त्रिभुज का क्षेत्रफल} = (1/2) * b * h = 176 \text{ सेमी}^2$$

$$(1/2) * b * 22 = 176$$

$$\text{त्रिभुज की चौड़ाई} = 176/11 = 16 \text{ सेमी}$$

61. उत्तर: D

$$\text{सोनी का वेतन} = x$$

$$\text{मकान का किराया} = x * 20/100 = x/5$$

$$\text{शिक्षा शुल्क} = 30/100 * x = 3x/10$$

$$\text{शेष} = x - x/5 - 3x/10 = x/2$$

$$\text{खरीदारी} = x/2 * 80/100$$

$$\text{शेष} = x/2 * 20/100$$

$$x/2 * 20/100 = 800$$

$$x = 8000 \text{ रु}$$

62. उत्तर: A

$$\text{लागत मूल्य} = 100x$$

$$\text{अंकित मूल्य} = 100x * 120/100 = 120x$$

$$120x - 100 = 100x * 110/100$$

$$x = 10$$

$$\text{लागत मूल्य} = 100 * 10 = 1000 \text{रूपये}$$

63. उत्तर: C

$$3a = 5a * R * 4/100$$

$$R = 15\%$$

64. उत्तर: C

$$5x / 3x + 20 = 1/1$$

$$3x + 20 = 5x$$

$$2x = 20$$

$$x = 10 \text{ लीटर}$$

$$\text{मिश्रण की मात्रा} = 8 * 10 = 80 \text{ लीटर}$$

65. उत्तर: B

$$4x + 12 - 30 / 5x + 8 - 26 = 1/2$$

$$5x - 18 = 8x - 36$$

$$3x = 18$$

$$x = 6$$

$$\text{लड़कों की प्रारंभिक संख्या} = 4 * 6 = 24$$

**Reasoning Ability**

निर्देश (66-69):

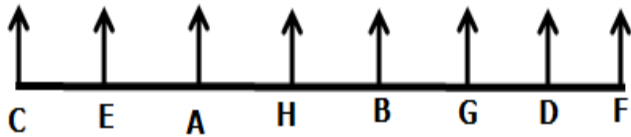
66) उत्तर: B

67) उत्तर: A

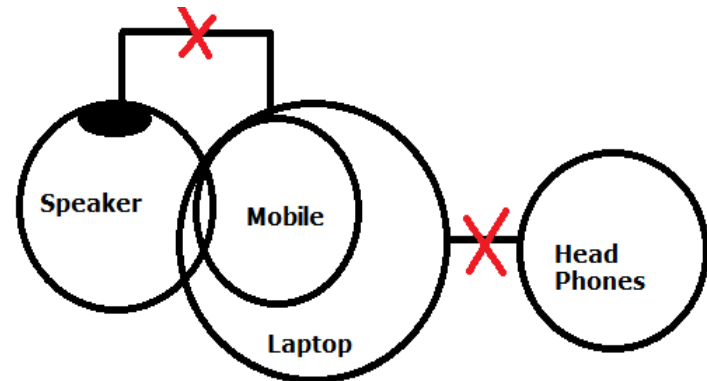
68) उत्तर: B

69) उत्तर: B

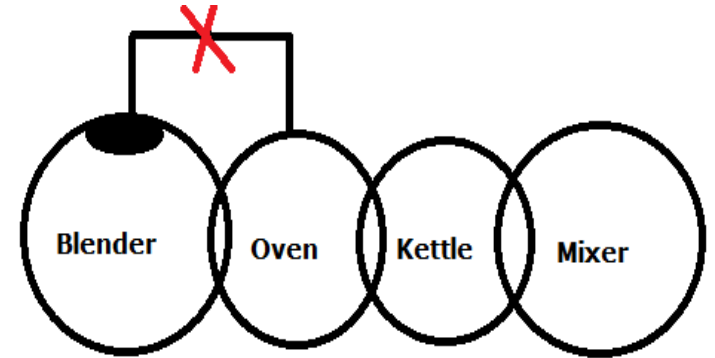
अंतिम व्यवस्था



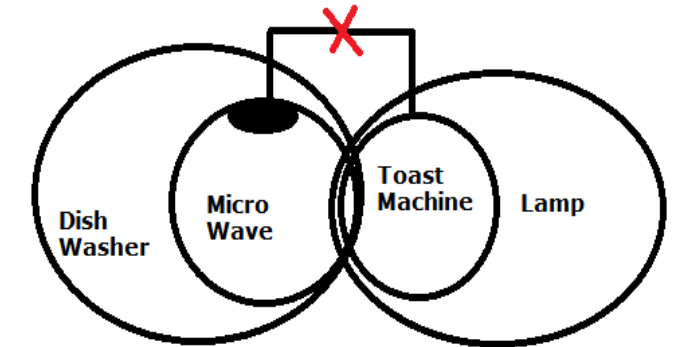
70) उत्तर : D



71) उत्तर: B



72) उत्तर: C



निर्देश (73-76):

73. उत्तर: B

74. उत्तर: D

75. उत्तर: C

76. उत्तर: E (यानी N)

निर्देश (77 -81):



77) उत्तर: D

78) उत्तर: E

79) उत्तर: A

80) उत्तर: E

81) उत्तर: A

अंतिम व्यवस्था

	व्यक्ति
1	D
2	H
3	A
4	F
5	C
6	B
7	G
8	E

निर्देश (82-86):

82) उत्तर: B

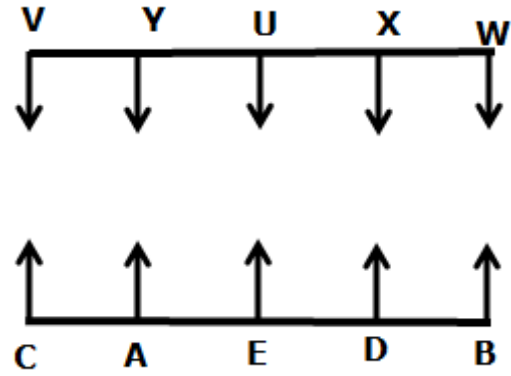
83) उत्तर: E

84) उत्तर: A

85) उत्तर: B

86) उत्तर: A

अंतिम व्यवस्था

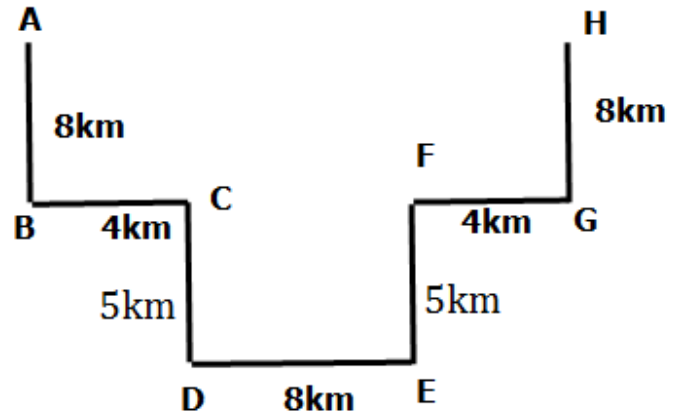


निर्देश ( 22-24 ):

87) उत्तर: B

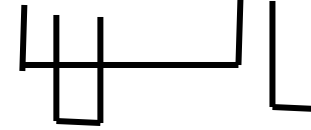
88) उत्तर: C

89) उत्तर: C



90. उत्तर: E

CONDITION



91. उत्तर: C

CONSECUTIVE

SENT, NEST, NETS and TENS.

निर्देश (27-31):

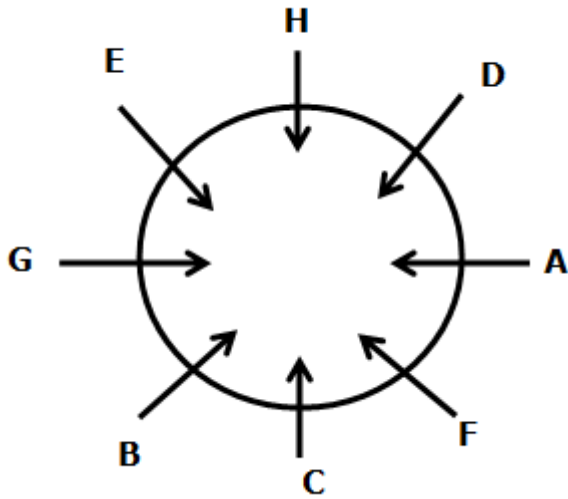
92) उत्तर: B

93) उत्तर: C

94) उत्तर: D

95) उत्तर: B

96) उत्तर: E



97) उत्तर: E

I.  $M > W \Rightarrow (M \geq Q = R > W) = \text{सत्य}$

II.  $X < Q \Rightarrow (Q = R > W = X) = \text{सच}$

98) उत्तर: D

I.  $L \leq I \Rightarrow (I = K > D \geq L) =$

असत्य

II.  $D > Y \Rightarrow (D \geq L < J = Y) = \text{असत्य}$

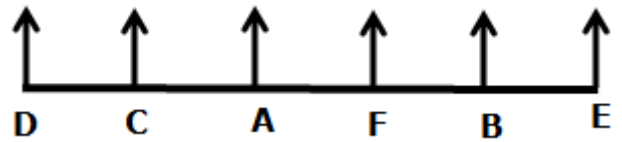
99) उत्तर: C

I.  $S > F \Rightarrow (S \geq W = B \geq F) = \text{असत्य}$

II.  $H = S \Rightarrow (S \geq W = B \geq F = H) = \text{असत्य}$

लेकिन दोनों के संयुक्त होने पर या तो I या II अनुसरण करता है।  $(S \geq F = H)$

100. उत्तर: B



[Get Our Special Grand Bundle PDF Course for All Upcoming Bank Exams](#)